



Kretser och kopplingar

Detta arbetsblad innehåller uppgifter om elektricitet: slutna kretsar, begrepp och mer. Skriv svaren direkt på detta papper.


1. Är varje krets en sluten krets eller en ej sluten krets?



SLUTEN EJ SLUTEN



SLUTEN EJ SLUTEN



SLUTEN EJ SLUTEN

2. Skriv vad de här symbolerna betyder i ett kopplingschema.







3. Rita två stycken kretsar.

Rita först in kretsen vid batteriet och rita sedan kretsen som ett kopplingschema.

