


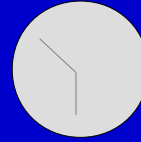
Klockan

Detta arbetsblad innehåller uppgifter om klockan och tid. Skriv svaren direkt på pappret.

Skriv tiden på linjen under varje klocka. Skriv digital tid som analog tid.



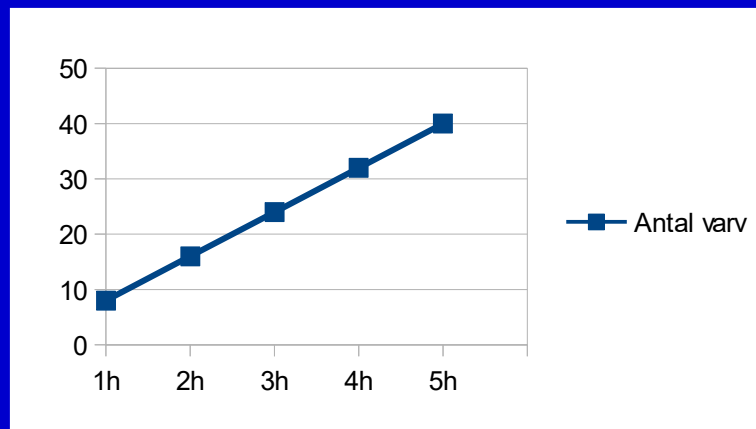
18:09



Räkna ut tidskillnaden:

a) Mellan klockan 8:00 och klockan 15:58 _____ b) Mellan klockan tjugofem i fyra (på natten) och kl. 8:09 _____

Analysera diagrammet.



Diagrammet visar hur många varv en person springer under en viss tid. Räkna med att värdet vid 1h = 8 varv.

Personen börjar klockan 9:45. Hur många varv har personen hunnit efter en och en halv timme? _____

Om ett varv är 200 meter, hur långt har då personen sprungit efter 10 timmar? _____ km

Hur många varv hinner personen efter: 1,25 timmar _____ varv 2,5 timmar _____ varv

Håller personen samma hastighet eller inte: Sätt ett kryss. () SAMMA HASTIGHET () INTE SAMMA HASTIGHET

Bra jobbat! Du är nu klar!