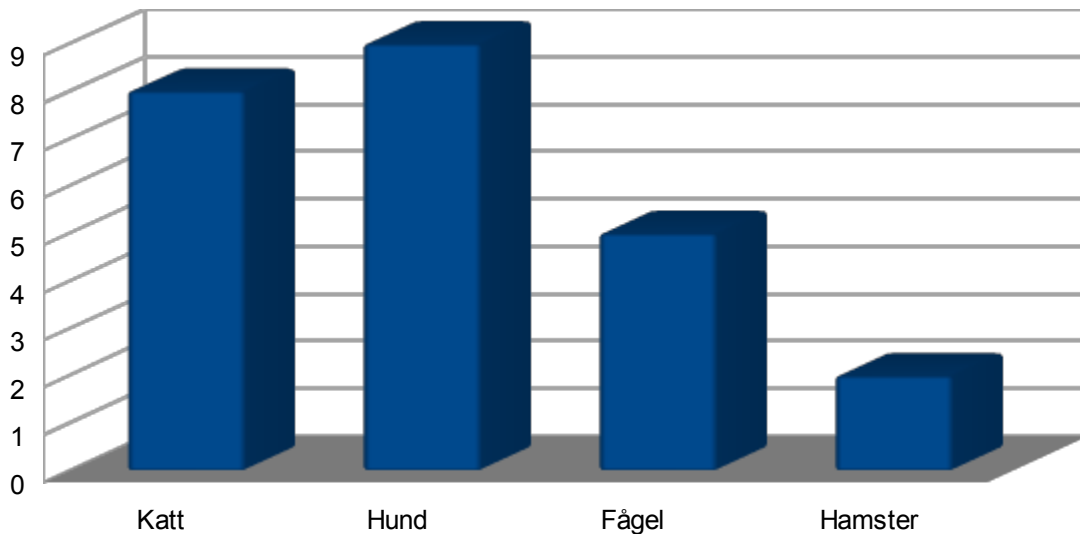


DIAGRAMKLUR 1

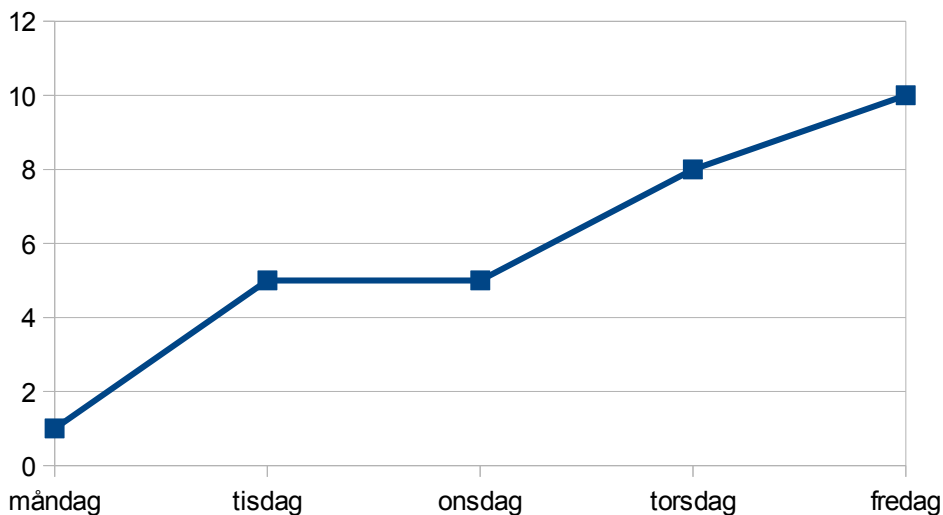
Uppgift skapad av KlassKlur. www.klassklur.weebly.com. Ta ej bort detta!



Titta på diagrammet och svara på frågorna:

- Vilket alternativ var populärast?
- Hur många fler hade katter som husdjur än hamster?
- Hur många hade en fågel som husdjur?

Temperatur i Stockholm



Nu har vi ett annat diagram att titta på.

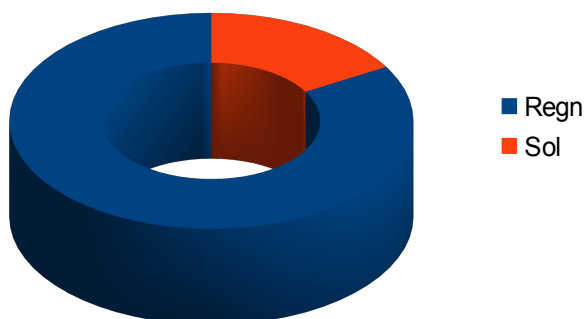
- Vad kallas denna typ av diagram?
- Vad var temperaturen på tisdag?
- Vilken var den varmaste dagen?

NÄSTA SIDA: SANT ELLER FALSKT-FRÅGOR OM

DIAGRAM.

SANT ELLER FALSKT?

Antal procent med regn och sol under oktober.



Är det sant att...

	SANT	FALSKT
75% ÄR REGN?		
REGN ÄR BLÅ FÄRG?		
SOL ÄR 80%?		
SOL ÄR 15%?		

HUR HAR DET GÅTT HITTILS?

1	2	3	4	5	6	7	8	9	10
---	---	---	---	---	---	---	---	---	----

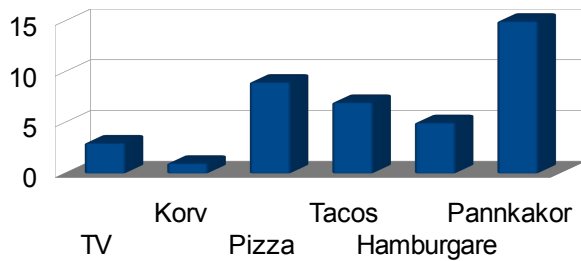
1= Superdåligt 10= Superbra

NÄSTA SIDA: DIAGRAMFAKTA

FAKTA OM DIAGRAM

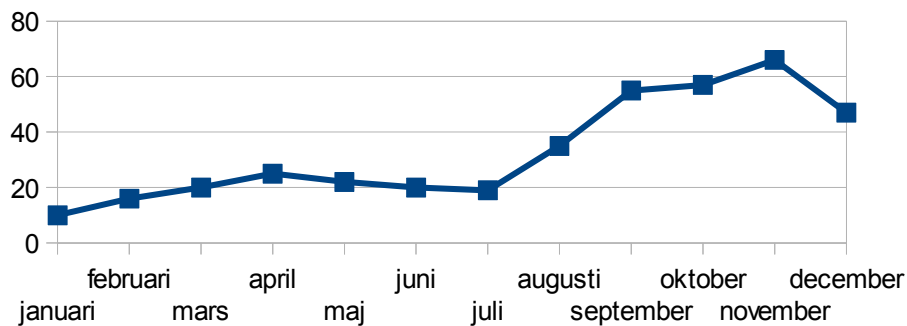
OLIKA TYPER AV DIAGRAM

Favoritmat



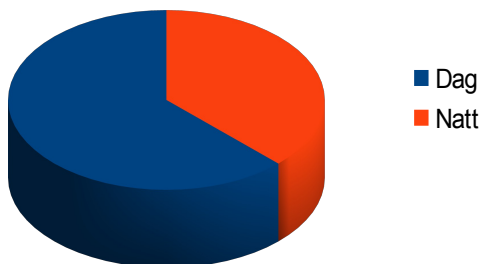
Stapeldiagram

Antal mm nederbörd under 2012



Linjediagram

Antal timmar med dag och natt den 20:e april



Cirkeldiagram

Och nu är du klar och vet mer om diagram!